

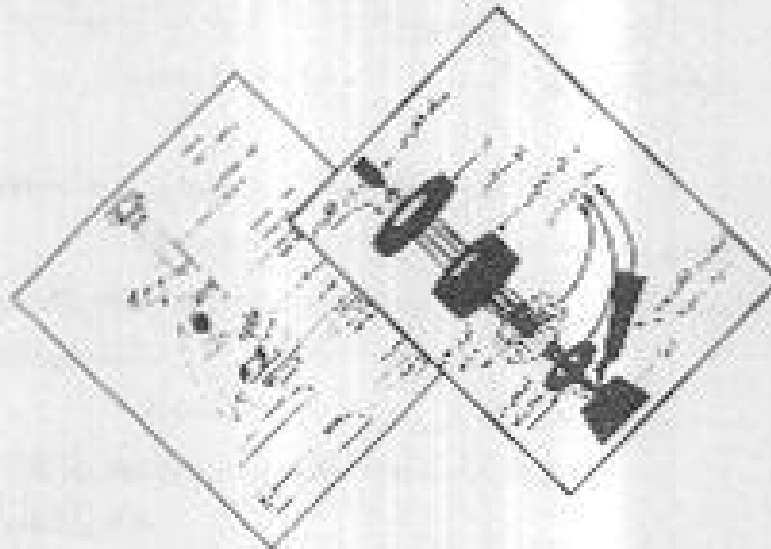
باسمه تعالی



آزمون علمی شماره 2

دبستان غیرانتفاعی جوانه ها

با همکاری مدرسه راهنمایی غیرانتفاعی رسا



قابل توجه اولیاء محترم :

ثبت نام کلاس های مکالمه زبان

با همکاری موسسه کیش ایز

از ۱۳۸۷/۱۱/۱۹ تلفن تماس : ۶۶۱۳۵۶۸

آدرس: بین شاهد ۵۹ و ۶۱

قرآن و تفهیم تباری استغنی

۱- حروف مقطعه در ابتدای چند سوره از قرآن آمده است؟

- (۱) ۲۶ سوره (۲) ۲۸ سوره (۳) ۲۷ سوره (۴) ۳۱ سوره

۲- هر کدام یک از کلمه های زیر حروف ناخوانا وجود ندارد؟

- (۱) ابقوا (۲) ذوالجلال (۳) اهل البيت (۴) اظفر ثم حنین

۳- حروف مقطعه ((المرا)) چگونه خوانده می شود؟

- (۱) الف ذل میم نر (۲) الف لام هم نر (۳) الف لام میم نر (۴) اول م نر

۴- معنی ((والله بكل من علیه)) کدام است؟

(۱) ایضا از تو باری می خواهم

(۲) و خدا دعوت می کند به بهشت و آمرزش

(۳) میسر مخصوص خدایی است که بروردگار جهان و جهانیان است. این جمله معنی کدام سوره ی قرآن است؟

- (۱) الحمد لله رب العالمین (۲) انکرم بعدوا باک یسمن (۳) انکر من الرعب (۴) اهدنا الصراط المستقیم

۵- حضرت زین ابی طالب در حضور پادشاه حبشه آیات کدام سوره از قرآن را خواند؟

- (۱) سوره ی یوسف (۲) سوره ی احزاب (۳) سوره ی آل عمران (۴) سوره ی توبه

۶- این سخن از کیست؟! ((بعد از من پیامبری می آید که نام او احمد است.))

- (۱) حضرت موسی (ع) (۲) حضرت یوسف (ع) (۳) حضرت عیسی (ع) (۴) حضرت یحیی (ع)

۷- خداوند پیامبران را برای هدایت و رضای مردم فرستاده است تا آنان را با دستورات الهی آشنا کند. جزا کدام یک از اصول اعتقادی ما مسلمانان است؟

- (۱) عدل (۲) امانت (۳) نبوت (۴) توحید

۸- والعهی ((عذیر حی)) از آن جهت برای ما مسلمانان اهمیت دارد که:

(۱) این نبره های عتقه و عذیه قرار دارد.

(۲) مسلمانان نیاز جماعت را با پیامبر به جا آوردند.

(۳) پیامبر اکرم (ص) حضرت علی (ع) را به عنوان جانشین خود، مولا و رهبر مسلمانان معرفی کرد.

(۴) پیامبر اکرم (ص) مسلمانان را نه برادری و وحدت و برهیز از تفرقه دعوت کرد.

۹- کدام پلنگ بزرگ خدا را از زمین برای همه ی جهانیان فرستاده اند؟

- (۱) حضرت ابراهیم (ع) (۲) حضرت موسی (ع) (۳) حضرت عیسی (ع) (۴) حضرت محمد (ص)

ادبیات فارسی

۱۱- کدام یک از کلمات زیر ویرانه تر از بنده در لغت نامه نوشته می شود؟

- (۱) سبب (۲) حیرانی (۳) معاور (۴) معناری

آزمون پایه هفتم شماره ۲ رجا

۱۲ - مراجعه به دائرة المعارف برای چیست ؟

(۱) برای رفع نیاز مندی در مورد دانش

(۲) برای اطلاع از همه ی موضوعات جهان

(۳) برای شناسایی همه ی اشخاص

(۴) برای اطلاع از همه ی مسائل علمی ، ادبی ، هنری ، تاریخی ، جغرافیایی و غیر این ها

۱۳ - کدام یک از این بیت ها دارای ردیف می باشد ؟

(۱) جز او را عدان کردگار سپهر

(۲) کثرت پایداری است در کارها

(۳) بیا که با تو صل کن بر پیوسته

(۴) از کوشش به هر چیز خواهی رسید

۱۴ - کدام یک از کلمات زیر صحیح نوشته شده است ؟

(۱) قطور (۲) تنور (۳) تطور (۴) تنور

۱۵ - در جمله ی ((هر قدیم مردم علت بسیاری از بیماری ها را نمی دانستند)) فعل در چه زمانی واقع شده است ؟

(۱) آینده (۲) حال (۳) ماضی (۴) مضارع

۱۶ - مضارع دوم بیت ((تو به زانکه امر گویی

(۱) که گل از چمن بچیند

(۲) که از آب آن بپوشد

(۳) که به برگ گل نشیند

(۴) به زمین قدم گذارد

۱۷ - در جمله ی ((دو روز بعد رضا برای عبادت علی به بیمارستان رفت)) فاعل کدام کلمه است ؟

(۱) علی (۲) رضا (۳) بیمارستان (۴) دو روز بعد

۱۸ - در عبارت ((کشاورزان روستای علی آماه هزارتن برنج تولید کردند)) گزاره چند کلمه است ؟

(۱) سه کلمه (۲) پنج کلمه (۳) چهار کلمه (۴) شش کلمه

۱۹ - کدام کلمه دارای نشانه ی جمع نیست ؟

(۱) اطلاعات (۲) رازها (۳) استخوان (۴) معاصر

۲۰ - زمان کدام فعل مضارع (حال) است ؟

(۱) می رفتیم (۲) می نوشتی (۳) می پوشم (۴) می زدی

۲۱ - کدام دسته از کلمات زیر مخالف یکدیگرند ؟

(۱) ایوان ، پانشاری (۲) فعال ، گه کار (۳) زمخت ، درشت (۴) دانش نامه ، دائرة المعارف

۲۲ - کدام دسته از کلمه های زیر هم خانواده هستند ؟

(۱) کشید ، بوم ، بازگ (۲) راه ، همراه ، راهنما (۳) کفش ، کفش ، کتف (۴) مسطر ، انظار ، ناظر

۲۳ - جمله ی ((چنین شنیدم که بدان روزگار که سوگل خلیفه بود به بغداد وی را بنده آن بود فتح نام)) به فارسی

امروز چگونه نوشته می شود ؟

(۱) شنیده بودم سوگل و قس خلیفه بغداد شد. سه را با فتح و بیوروی سلام خود کرد .

(۲) شنیده بودم که خلیفه ی بغداد فتح بزرگی گرفته است .

(۳) چنین شنیدم که وقتی سوگل خلیفه ی بغداد بود اسلامی به نام فتح داشت .

(۴) چنین شنیدم که وقتی سوگل خلیفه شد نام خود را فتح گذاشت .

آزمون تنه علمی شماره ۲ و ما

- ۲۲ - کدام یک از کلمات زیر مرکب نیست؟
 ۱) سر انجام (۲) هوشیار (۳) بیچار (۴) فرسور
- ۲۳ - کدام یک از کلمات زیر صفت می باشد؟
 ۱) سنگ (۲) شقایق (۳) بهار (۴) خندان
- ۲۴ - در جمله ی (۱) پادشاهی پسر به بکت داد ((پسر چه حالتی دارد؟
 ۱) مضاف الیه (۲) فاعل (۳) مفعول (۴) مضاف
- ۲۵ - مرادف کلمه ی ((نگار)) کدام گزینه است؟
 ۱) صفت و خو (۲) ناناگ (۳) این باگ (۴) آرام
- ۲۶ - جمله ی (۱) ما روز نامه می خوانیم ((فعل من خوانیم چه حالتی را در جمله دارد.
 ۱) اول شخص جمع (۲) دوم شخص مفرد (۳) دوم شخص جمع (۴) اول شخص مفرد
- ۲۷ - در جمله ی زیر چند حرف ربط ((بیوند)) وجود دارد.
 ((حسرت عدالتش را خورد ، سپس به کارش پرداخت))
 ۱) یکی (۲) دو تا (۳) سه تا (۴) چهار تا
- ۲۸ - کدام گزینه ضرب افعال نیست؟
 ۱) قطره قطره جمع کرده ، وانگهی جریا نمود .
 ۲) هر که باشی پسر : برفش بیشتر .
 ۳) در کار حیر حاجت شرح استخاره نیست .
 ۴) مزه ی کتاب رفت ز بر دلداری .

تعلیمات اجتماعی

الف) جغرافیا

- ۲۱ - بیش تر صنایع نفت ایران در کدام سمت قرار دارد؟
 ۱) جنوب شرقی (۲) جنوب شرقی (۳) جنوب (۴) شمال غربی
- ۲۲ - کدام کشور از نظر تولید پنبه در جهان معروف است؟
 ۱) ارمنستان (۲) ترکیه (۳) جمهوری آذربایجان (۴) ترکمنستان
- ۲۳ - کارخانه ی شوب آهن و کارخانه ی الوعیل سازی به ترتیب به کدام گروه از صنایع تعلق دارد؟
 ۱) صنایع معدنی - صنایع معدنی (۲) صنایع معدنی - صنایع مادر (۳) صنایع مادر - صنایع مادر (۴) صنایع مادر - صنایع معدنی
- ۲۴ - رود کورا در کدام کشور جاری است و به کجا می ریزد؟
 ۱) جمهوری آذربایجان - دریای خزر (۲) پاکستان - دریای عمان (۳) ترکمنستان - دریای خزر (۴) ارمنستان - دریای خزر
- ۲۵ - کدام یک از استان های زیر شبه در کنار دریای عمان و هم بحر کنار خلیج فارس قرار دارد؟
 ۱) خوزستان (۲) هرمزگان (۳) سیستان و بلوچستان (۴) یوزشهر
- ۲۶ - کدام گیاه به رطوبت فراوان نیاز دارد؟
 ۱) گندم (۲) چای (۳) برنج (۴) پسته

آزمون پایه علمی شماره ۲ رما

۳۷- کار اصلی ایلات و عشایر چیست؟

۱) دامپروری ۲) کشاورزی ۳) کشاورزی و دامپروری ۴) باغداری

۳۸- به مجموعه ی افرادی که در یک جا زندگی می کنند چه می گویند؟

۱) جامعه ۲) گروه ۳) جمعیت ۴) خانواده

۳۹- تاریخ و تمدنی

۳۹- مبدأ تاریخ اسلام چیست؟

۱) هجرت پیامبر از مدینه به مکه
 ۲) هجرت ناری پیامبر از مکه به حبشه
 ۳) هجرت پیامبر از مکه به مدینه
 ۴) هجرت نران پیامبر از مدینه به حبشه

۴۰- تشکیل حکومت اسلامی توسط پیامبر در چه زمانی اتفاق افتاد؟

۱) در هنگام محاصره ی امدادی ۲) بعد از فتح مکه
 ۳) بعد از هجرت به مدینه ۴) بعد از بدت

۴۱- واقعه ی کربلا در کدام روز و در چه سالی رخ داد؟

۱) ۱۰ محرم - ۶۱ هجری ۲) ۱۰ محرم - ۶۰ هجری
 ۳) ۱۰ محرم - ۶۰ هجری ۴) ۱۰ محرم - ۶۱ هجری

۴۲- نفس ایرانیان در حکومت نسی عباسی موجب شرف در چه رعبه ای شد؟

۱) دانش و ادب ۲) طب و ادب
 ۳) علم و دانش ۴) ادب و هنر

۴۳- اسلام در زمان کدام سلسله در ایران ظهور کرد؟

۱) ساسانیان ۲) سلوگانی
 ۳) ساسانیان ۴) عباسیان

۴۴- حضرت علی (ع) در چه روزی و لایحه چه کسی به شهادت رسید؟

۱) ۱۰ رمضان - این سلسله ۲) ۲۱ رمضان این سلسله
 ۳) ۲۲ رمضان این سلسله ۴) ۲۱ رمضان - سلسله

۴۵- سلسله های ترک که بر ایران حکومت می کردند کدامند؟

۱) صفاریان ، غزنویان ، ساسانیان
 ۲) طاهریان ، غزنویان ، خوارزمشاهیان
 ۳) غزنویان ، خوارزمشاهیان ، سلجوقیان
 ۴) طاهریان ، صفاریان ، ساسانیان

۴۶- خانه ی کعبه در آغاز محل چه کاری بود؟

۱) محل پرستش به خدا ۲) محل پرستش خدای یکتا
 ۳) محل ترغیبی کردن حیوانات ۴) محل طواف خدایان

۴۷- دولت از چه افرادی تشکیل شده است؟

۱) رئیس جمهور و وزیران ۲) همه ی مردم کشور
 ۳) نمایندگان مردم ۴) رئیس جمهور

۴۸- چه کسی بر فعالیت های سه قوه نظارت دارد؟

۱) رهبری ۲) رئیس ...
 ۳) رئیس قوه ی قضائیه ۴) نمایندگان مجلس

۴۹- دولت چگونه می تواند زمینه ی رشد و پیدایش مردم را فراهم کند؟

۱) با مبارزه با فقر ۲) با گسترش آرزایی
 ۳) با گسترش آموزش و پرورش ۴) با مبارزه با فساد

۵۰- بر اساس کدام یک از وظایف حکومت در جامعه ی اسلامی قوانین اسلامی تنظیم شده باید اجرا شود؟

۱) تکلیفاتی از استقلال ۲) پیوند زندگی مردم
 ۳) پایداری از اسلام ۴) گسترش آموزش و پرورش

آزمون تئیه علمی شماره ۲ و ما

علوم

۵۱ در کدام مرحله از تک فعالیت علمی معمولاً همه ی مهارت های علمی خود را به کار می آوریم ؟

- (۱) مشاهده (۲) پخش بین (۳) آزمایش (۴) برقراری ارتباط

۵۲ مولکول های کدام یک از مواد زیر از یک نوع اتم در دست آمده است ؟

- (۱) اکسیژن (۲) آب (۳) رنگ آهن (۴) اکسید جیوه

۵۳ در یک ظرف ۱۰ اهم اکسیژن و ۲۴ اهم نیتروژن داریم پس از این که ترکیب شدند چند مولکول آب به دست می آید ؟

- (۱) ۳۰ مولکول (۲) ۵۱ مولکول (۳) ۵۱ مولکول (۴) ۱۰ مولکول

۵۴ موحن شمع چه نوع عبوری است ؟

- (۱) نوسان هم پیکس (۲) هم تغییر فریکس و هم تغییر نسیبایی (۳) تغییر نسیبایی (۴) هیچ کدام

۵۵ در ابتدا و انتهای یک رنگین کمان کدام رنگ ها دیده می شوند ؟

- (۱) سبز و قرمز (۲) نارنجی و سبز (۳) قرمز و سبز (۴) قرمز و بنفش

۵۶- کدام استاندارد برای اندازه گیری توانی فصل شدن جاری است ؟

- (۱) گرم جایی (۲) برزانه (۳) خور باطله (۴) ژانور

۵۷ در کدام یک از وسایل زیر علمی به کار برفته است ؟

- (۱) سنگ علمی (۲) کوزه ی آشنایی (۳) نوربین شکایی (۴) میکروسکوپ

۵۸ کدام یک از موارد زیر را می توان کتاب تاریخ زمین دانست ؟

- (۱) سنگ های آذرینی (۲) سنگ های دگرگون شده (۳) سنگ های رسوبی (۴) مواد معدنی

۵۹- می خواهم جعبه ی سنگین را از زمین به ارتفاع ۳ متری حمل کنیم از کدام تخته استفاده کنیم تا برای بالا بردن نیروی کشوری استفاده نمود ؟

- (۱) تخته ی ۲ متری (۲) تخته ی ۲۰ سانتی متری (۳) تخته ی ۳ متری (۴) تخته ی ۳۴۰ سانتی متری

۶۰ در پخش شده ی جوهر در آب کدام یک از خاصیت های ماده بیان می شود ؟

- (۱) جنبش مولکولانی (۲) ریاضی مولکولانی (۳) کشش مولکولانی (۴) چسبندگی مولکولانی

۶۱ کدام یک از منابع زیر چسبندگی نور طبیعی است ؟

- (۱) چراغ های روغنی و الکتریکی (۲) ماه و سیارات (۳) خورشید و گرم شب تاب (۴) چراغ های برقی و چراغ های اویان

۶۲ کدام عامل باعث دیدن اجسام در روشنایی می شود ؟

(۱) پس از برخورد نور به اجسام مقداری از این نور جذب جسم شده و باعث می شود ما بتوانیم آن را ببینیم .

(۲) پس از برخورد نور به اجسام مقداری از آن بازتابی شده و به چشم ما می رسد و این نور بازتاب شده باعث دیدن جسم می شود .

(۳) نوری که از قبل در جسم ذخیره شده باعث مشاهده ی آن جسم می شود .

(۴) هم نور جذب شده و هم نور بازتابیده شده باعث دیده شدن جسم توسط ما می شود .

۶۳- در کدام یک از وسایل زیر انرژی الکتریکی به انرژی حرکتی تبدیل می شود ؟

- (۱) چراغ قوه (۲) بسته (۳) بلوبر (۴) سناور برقی

۶۴- فصل پیش تو مربوط به کدام قسمت از بدن موجودات است ؟

- (۱) استخوان ، صندلی ، مو (۲) مو ، دندان ، ناخن

- (۳) ماهیچه ، استخوان ، غضروف (۴) دندان ، استخوان ، صدف

آزمون بنیاد علمی شماره ۲ رما

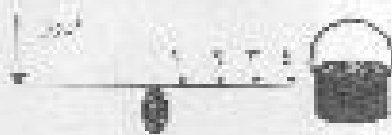
۶۵- ۱۰ گرم آب یا ۱۰ گرم بخار آب از چه نظر متفاوت هستند ؟

- (۱) جرم (۲) حجم (۳) نوع اتم (۴) نوع مولکول

۶۶- مولکول های کدام یک از هوا زیر می توانند آزادانه روی هم سر بخورند و در ترکیب با اکسیژن نوعی اسید به وجود آورند ؟

- (۱) طلا (۲) مس (۳) آهن (۴) جیوه

۶۷- مس خواهیم این سطل بر او نامه را به وسیله ی میله ای بلند کنیم به طوری که برای بلند کردن آن نیروی کمتری را به کار ببریم کدام نقطه روی میله مناسب تر است ؟




- (۱) نقطه ی چهار (۲) نقطه ی سه (۳) نقطه ی دو (۴) نقطه ی یک

۶۸- کدام دسته از وسایل زیر همگی عاشرین ساده هستند ؟

- (۱) لوله ، سطح شیب دار ، پیچ
(۲) اهرم ، پیچ ، دوچرخه
(۳) چاقو ، عاشرین لباس نویسی ، شمشیر
(۴) عاشرین لهربر ، چرخ گوشت ، آچار

۶۹- کدام یک از وسایل زیر مربوط به شکل روبرو است ؟



- (۱) باغ گیر (۲) آلا کتک (۳) فندق شکن (۴) لیچی

۷۰- در طبیعت کدام یک از مواد زیر برای تشکیل فسیل مناسب تر است ؟

- (۱) مسلمان (۲) عماره (۳) خاک رس (۴) کج

ریاضی

۷۱- عدد هفتاد و سه میلیون و پنجاه و سه هزار و هفتاد و سه کدام است ؟

- (۱) ۱۷۰۰۳۵۳۰۱۷ (۲) ۱۷۰۰۳۵۳۰۱۷ (۳) ۱۷۰۰۳۵۳۳۰۱۷ (۴) ۱۷۴۰۰۵۳۰۱۷

۷۲- اگر به عدد ۷۴۲۰۹۰۰۵ میلیون اضافه کنیم کدام رقم تغییر خواهد کرد ؟

- (۱) ۴ (۲) ۷ (۳) ۰ (۴) ۶

۷۳- می خواهیم برای پدرایی از آن نفر اسکان تهیه کنیم ، اگر هر ۶ اسکان در یک حبه باشد و اسکان ها فقط حبه ای به فروش برسد ، حداقل چند حبه اسکان باید تهیه شود ؟

- (۱) ۸ حبه (۲) ۹ حبه (۳) ۷ حبه (۴) کمتر از ۸ حبه

۷۴. خصص عدد ۴۰ کدام است ؟


- ۲۰ (۱) ۹ (۲) ۱۲ (۳) ۸ (۴)

۷۵. ۵ واحد برابر است با.....

- $\frac{5}{6}$ (۱) $\frac{5}{2}$ (۲) $\frac{5}{3}$ (۳) $\frac{1}{5}$ (۴)

۷۶. با اعداد (۱، ۲، ۳، ۴، ۵، ۶) چند کسر بزرگتر از واحد می توان نوشت ؟

- ۵۵ (۱) ۵۶ (۲) ۵۷ (۳) ۵۸ (۴)



۷۷. چه کسری از شکل مقابل رنگ شده است ؟

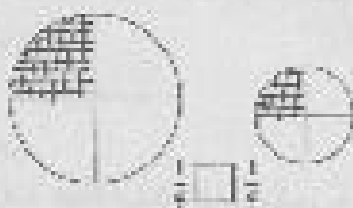
- $\frac{3}{4}$ (۱) $\frac{3}{8}$ (۲) $\frac{3}{8}$ (۳) $\frac{7}{8}$ (۴)

۷۸. ساده ترین کسر مساوی $\frac{33}{60}$ کدام است ؟

- $\frac{8}{22}$ (۱) $\frac{7}{6}$ (۲) $\frac{11}{24}$ (۳) $\frac{1}{3}$ (۴)

۷۹. حاصل عبارت تقویق مقابل کدام یک از گزینه های زیر است ؟

- $3\frac{1}{5}$ (۱) $3\frac{6}{5}$ (۳) $3\frac{1}{5}$ (۲) $4\frac{7}{5}$ (۴)



۸۰. با توجه به شکل مقابل در داخل کدام علامت را می توان قرار داد ؟

- $<$ (۱) $>$ (۲) $=$ (۳) هیچکدام (۴)

۸۱. به جای کدام گزینه را می توان قرار داد ؟

- ۴ (۱) ۳ (۲) ۵ (۳) ۹ (۴)

۸۲. در جای خالی کدام عدد را می توان نوشت ؟

- $\frac{7}{6}$ (۱) $\frac{1}{6}$ (۲) $\frac{7}{6}$ (۳) $\frac{2}{6}$ (۴)

آزمون بنیه علمی شماره ۲ ریاضی

۸۳ - مساحت زمین به شکل مثلث یک هکتار است. اگر ارتفاع آن ۵۰ متر باشد فاصله آن چند متر است؟

- (۱) ۲۰ متر (۲) ۲۰۰ متر (۳) ۱۰۰ متر (۴) ۱۰ متر

۸۴ - مساحت ضمیمه رنگ شده در شکل مقابل چندتر است؟



- (۱) ۱۰ (۲) ۲۰ (۳) ۵ (۴) قابل تعیین نیست

۸۵ - نسبت بین مربع به پاره‌ش مثل ۲ به ۵ است. اگر اختلاف مساحت آن ها ۳۱ متر باشد مساحت مربع چندتر است؟

- (۱) ۳۵، ۱۴ (۲) ۳۰، ۹ (۳) ۲۸، ۷ (۴) ۲۴، ۴۵

۸۶ - کدام شکل بیشترین خط تقارن را دارد؟

- (۱) مستطیل (۲) مربع (۳) متوازی الاضلاع (۴) دایره

۸۷ - اندازه‌ی فاصله‌های زیاد را بر حسب اندازه‌ی مس می‌گیرند.

- (۱) هکتار (۲) متر مربع (۳) کیلو متر (۴) متر

۸۸ - دانش آموزان کلاس پنجم ۳۰ نفر هستند، اگر این تعداد ۱۰٪ همه‌ی دانش آموزان دبستان باشند، دانش آموزان این دبستان چند نفر هستند؟

- (۱) ۳۰۰ نفر (۲) ۳۶۰ نفر (۳) ۲۵۰ نفر (۴) ۲۰۰ نفر

۸۹ - کدام یک از گزینه‌های زیر به حاصل ضرب ۲۵ - ۳۸ نزدیک‌تر است؟

- (۱) ۱۳۰۰ (۲) ۸۰۰ (۳) ۱۴۰۰ (۴) ۶۰۰

۹۰ - کارگری ساعت ۱۵:۰۰ صبح به سرکار رفت، هنگام ظهر ۳:۰۰ ساعت صرف ناهار خوردن و استراحت کرد و پس از آن تا ساعت ۱۸:۱۵ بعد از ظهر مشغول کار شد. این کارگر چند ساعت کار کرده است؟

- (۱) ۳:۱۳ (۲) ۱۱ (۳) ۱۰:۳۰ (۴) ۱۰

در پناه حضرت حق موفق و پیروز باشید